

CONCURSO PÚBLICO DA PREFEITURA DE CABECEIRA GRANDE – MG

Nível Fundamental

Cargo
Motorista

LEIA COM ATENÇÃO!

- 01.** Só abra este caderno após ler todas as instruções e quando for autorizado pelos fiscais da sala.
- 02.** Autorizado o início da prova, verifique se o caderno contém 30 (trinta) questões. Se não estiver completo, comunique ao fiscal.
- 03.** Todas as questões são de múltipla escolha, apresentando 4 (quatro) opções de resposta e uma única alternativa correta.
- 04.** Ao receber a folha de respostas, confira o seu nome e número de inscrição. Qualquer irregularidade observada comunique imediatamente ao fiscal.
- 05.** O tempo de prova será de 3 (três) horas. Este tempo compreende a assinatura e a transcrição para a Folha de Respostas.
- 06.** A última folha deste caderno é destacável e o candidato pode levá-la como anotação das respostas. Assinale as respostas primeiramente no corpo da prova, só depois transfira os resultados para a folha de respostas.
- 07.** O preenchimento da folha de respostas deve ser feito apenas com caneta esferográfica preta ou azul. Faça as marcas apenas no campo designado. A marcação da folha de respostas é definitiva, não admitindo rasuras.
- 08.** A folha de resposta não será substituída (item 8.18.3 do edital), portanto não risque, amasse, dobre ou suje sua folha de respostas, pois isso poderá prejudicá-lo.
- 09.** Os fiscais não estão autorizados a emitir opinião nem prestar esclarecimentos sobre o conteúdo das provas. A interpretação das questões faz parte da avaliação (prova).



LÍNGUA PORTUGUESA

QUESTÃO 01

Leia o texto a seguir.

Professora de Itanhaém aproveita tempo livre para se dedicar ao surf

Para alguns o mar está para peixes, para outros está para ondas. Faça chuva ou faça sol, a professora Rita Rodrigues de Oliveira, de 55 anos, tem no sangue a determinação de uma surfista veterana e não se dá por vencida nas águas. Com sua prancha, renova as energias: "Sinto-me na flor da idade", afirma.

(Disponível em: <<https://blog.seraquetem.com.br/cidades/outras-cidades/itanhaem/na-flor-da-idade-professora-de-itanhaem-aproveita-tempo-livre-para-se-dedicar-ao-surf/>> Acesso em: 19 abr. 2018. Adaptado)







Na frase "Sinto-me na flor da idade", a expressão "na flor da idade" está empregada no sentido:

- (A) Conotativo, significando "ainda jovem".
- (B) Figurado, significando "no final da vida".
- (C) Próprio, significando "envelhecendo rápido".
- (D) Denotativo, significando "com idade avançada".

QUESTÃO 02

Marque a alternativa abaixo cujo enunciado exemplifica uma frase nominal.

(A)  Você é brilhante!	(B)  Sua equipe é excelente!	(C)  Estou triste você faltou ontem!	(D)  BLÁ BLÁ BLÁ Silêncio!
---	--	---	---

QUESTÃO 03

Preencha corretamente as lacunas quanto à classe gramatical da palavra destacada e a explicação dada para a sua concordância.

"Conhecida como a 'Grande Dama do Samba' e considerada um dos maiores nomes da música popular brasileira em todos os tempos, Dona Ivone Lara, falecida em 16 de abril, nasceu em família de amantes da música popular. Enfrentou o preconceito e passou por momentos **muito** difíceis por ser mulher e sambista. Seu maior sucesso foi "Sonho meu", de autoria do compositor carioca Délcio Carvalho.

(Disponível em <<https://www.cartacapital.com.br/cultura/morre-dona-ivone-lara-a-201cgrande-dama-do-samba201d>>. Acesso em 19 abr. 2018.)

Na frase, a palavra "muito" modifica o _____ "difíceis". Não há concordância entre essas classes gramaticais porque, nesse caso, "muito" é um _____, palavra invariável.

- (A) adjetivo / adjetivo
- (B) advérbio / adjetivo
- (C) adjetivo / advérbio
- (D) advérbio / advérbio

QUESTÃO 04

Admirável gado novo

Vocês que fazem parte dessa massa
Que passa nos projetos do futuro
É duro tanto ter que caminhar
E dar muito mais do que receber

E ter que demonstrar sua coragem
À margem do que possa parecer
E ver que toda essa engrenagem
Já sente a ferrugem lhe comer

Ê, ô, ô, vida de gado
Povo marcado, ê!

Povo feliz!

Ê, ô, ô, vida de gado
Povo marcado, ê!

Povo feliz!

Fonte: Zé Ramalho. *CD 20 anos - Antologia acústica*. Acamã Produtora / Geração Produtora, 1997.

Marque a alternativa que preenche corretamente as lacunas do texto quanto à versificação da música acima.

Depois da segunda estrofe há um _____ que reforça a ideia defendida pelo sujeito lírico a respeito do povo que, apesar de "marcado", é feliz. Quanto à metrficação da estrofe, os versos são _____. As rimas são _____, correspondentes ao esquema A-B-C-D-E-D-E-D.

- (A) dístico / livres / emparelhadas.
- (B) refrão / decassílabos / mistas.
- (C) estribilho / brancos / alternadas.
- (D) coro / eneassílabos / interpoladas.

QUESTÃO 05

Leia, atentamente, a anedota.

Joãozinho chamou o táxi e perguntou:
-Moço, quanto o senhor cobra para me levar para o aeroporto?
E o taxista respondeu:
-R\$15,00.
-E as malas?
-As malas eu não cobro nada.
-Então leve as malas que eu vou a pé.

Fonte: <https://me.me/i/joaozinho-chamou-o-taxi-e-perguntou-moco-quanto-o-senhor-678985>

Na frase "Então leve as malas que eu vou a pé", podemos substituir "as malas" pelo pronome oblíquo "as". Marque a alternativa que apresenta a forma **CORRETA** desta substituição.

- (A) leve-as.
- (B) levem-nas.
- (C) levem-las.
- (D) leve-nas.

QUESTÃO 06

Marque a alternativa **CORRETA** em que o “a” deveria conter acento grave, devido à ocorrência de crase.

- (A) A tabacaria situava-se a duas quadras do esplendoroso Museu do Louvre.
- (B) Gota a gota, minha paciência foi sendo minada com aquela discussão tola.
- (C) O aplauso foi dirigido a mulheres defensoras do empoderamento feminino.
- (D) A advogada, naquele momento, tomou sábias decisões a Nelson Mandela.

QUESTÃO 07

Desde muito tempo, o aumento das taxas de impostos sobre produtos industrializados afetaram profundamente a renda mensal dos brasileiros.

Sobre a declaração acima, avalie as afirmações acerca dos termos da oração.

- I. "O aumento das taxas de impostos sobre produtos industrializados" é o núcleo do sujeito da oração.
- II. A concordância do verbo com o sujeito não está de acordo com a norma culta, pois o verbo deveria ser empregado no singular.
- III. O predicado da oração é verbal, porque seu núcleo é um verbo nocional, ou seja, demonstra uma ação.
- IV. "A renda mensal" é o objeto direto e "dos brasileiros" é o objeto indireto, pois o verbo "afetaram" é bitransitivo.

Está **CORRETO** apenas o que se afirma em:

- (A) I e IV.
- (B) I e II.
- (C) II e III.
- (D) III e IV.

QUESTÃO 08



Fonte: <https://www.frasesparaface.com.br/nao-me-deixe-ir-posso-nunca-mais-voltar/>. Acesso em 01 nov. 2017

De acordo com a norma padrão da língua, o pronome oblíquo átono "me"

- (A) tem de ficar obrigatoriamente antes do verbo.
- (B) pode estar enclítico que não haverá problema.
- (C) admite outra colocação no respectivo verso.
- (D) apresenta desvio em relação à posição na frase.

QUESTÃO 09

"Embora frequentes no dia a dia dos falantes, os vícios de linguagem são desvios gramaticais, ou seja, palavras, expressões e construções que fogem às regras da norma padrão ou norma culta. Os vícios de linguagem ocorrem, normalmente, por falta de atenção e pouco conhecimento dos significados das palavras pelos falantes".

Considerando as informações presentes no texto acima, em qual dos pares de frases identificam-se vícios de linguagem?

- (A) O anfitrião *comprimentou* meus amigos. / Certos voos provocam enjoos.
- (B) Fazem dois meses que ele partiu. / Faltaram muitos convidados hoje.
- (C) Eu o vi na esquina da minha rua. / A vaca da sua irmã é muito brava.
- (D) Houveram dias de paz no país. / Quando eu pôr o jornal na mesa, saia.

QUESTÃO 10

Sabendo-se que a divisão silábica obedece a algumas regras básicas é possível afirmar que todas as palavras tiveram suas sílabas separadas **CORRETAMENTE** em:

- (A) ca-rro-ça / gno-mo / ca-dea-do.
- (B) des-mai-a-do / gnós-ti-co / joi-a.
- (C) as-sas-si-no / ca-u-le / U-ru-guai.
- (D) ad-mi-rar / caa-tinga-ga / gu-el-ra.

MATEMÁTICA

QUESTÃO 11

Marta possui R\$96,00 em moedas de R\$0,05, R\$0,25 e R\$0,50. A quantidade de cada tipo de moeda é a mesma.

Marque a alternativa que contém a quantidade de cada tipo de moeda.

- (A) 130.
- (B) 120.
- (C) 110.
- (D) 80.

QUESTÃO 12

Segunda-feira gastei R\$51,25, terça-feira gastei R\$11,62, quarta-feira gastei R\$24,11, quinta-feira gastei R\$12,73 e sexta-feira gastei R\$78,47.

Qual o valor total que gastei de segunda-feira até sexta-feira?

- (A) R\$178,18.
- (B) R\$165,78.
- (C) R\$182,23.
- (D) R\$191,42.

QUESTÃO 13

Os honorários de um profissional autônomo foram aumentados em 25% após o término de um curso de capacitação que realizou.

Considerando que este profissional recebeu R\$2.625,00, por um determinado serviço prestado, qual é o valor que ele receberia antes do reajuste?

- (A) R\$1.968,75.
- (B) R\$2.000,00.
- (C) R\$1.995,15.
- (D) R\$2.100,00.

QUESTÃO 14

Um prêmio de 40 quilos de ouro foi dividido igualmente entre 32 ganhadores.

Considerando que a grama do ouro vale R\$133,43, marque a alternativa que contém o valor do ouro, em reais, de cada ganhador.

- (A) R\$1.667,88.
- (B) R\$16.678,75.
- (C) R\$166.787,50.
- (D) R\$1.667.875,00.

QUESTÃO 15

Considere a expressão:

$$\left[3 + 2 \cdot \left(\frac{3}{4} \right) - \left(\frac{-4}{3} - \frac{2-5}{5} \right) \cdot 45 \right] - 3$$

Marque a alternativa que contém o resultado dessa expressão.

- (A) - 28,5.
- (B) 34,5.
- (C) 43,5.
- (D) 52,5.

QUESTÃO 16

Quantos segundos tem 3 horas 32 minutos e 15 segundos?

- (A) 2.115 segundos.
- (B) 1.935 segundos.
- (C) 12.735 segundos.
- (D) 33.215 segundos.

QUESTÃO 17

Dentre todos os selos de um colecionador, 378 deles são importados, quantidade correspondente a dezoito vinte avos do total.

Marque a alternativa **CORRETA**.

- (A) O colecionador tem 420 selos, 90% são importados.
- (B) O colecionador tem 400 selos, 94,5% são importados.
- (C) O colecionador tem 378 selos, 91% são importados.
- (D) O colecionador tem 428 selos, 88,32% são importados.

QUESTÃO 18

Considere que um ciclista percorre uma pista em forma retangular, com 440 metros de comprimento e 320 metros de largura.

Supondo que o ciclista completará 6 voltas nesta pista, marque a alternativa que contém o total percorrido.

- (A) 4.560 metros.
- (B) 9.120 metros.
- (C) 91.200 metros.
- (D) 45.600 metros.

QUESTÃO 19

Tome a terça parte da idade de João, subtraia a idade de Sofia, o resultado ainda é maior que a idade de Carla.

Supondo que Sofia tem 7 anos e Carla 15 anos, marque a alternativa que contém uma possível idade de João.

- (A) 67 anos.
- (B) 50 anos.
- (C) 58 anos.
- (D) 61 anos.

QUESTÃO 20

Em um dia de trabalho, 4 trabalhadores constroem 16m^2 de muro.

Quantos trabalhadores seriam necessários para construir 52m^2 de muro em um mesmo dia de trabalho?

- (A) 11.
- (B) 12.
- (C) 13.
- (D) 14.

CONHECIMENTOS ESPECÍFICOS – MOTORISTA

QUESTÃO 21

Conforme o Código de Trânsito Brasileiro lei 9.503/97. Infração de trânsito é?

- (A) Todo cidadão que impõe seus direitos e deveres nas vias públicas.
- (B) O respeito com o agente de trânsito, autoridade de trânsito, bem com as demais sinalizações.
- (C) A inobservância de qualquer preceito do Código, da legislação complementar ou das resoluções do CONTRAN.
- (D) O comportamento do condutor conforme as condições adversas da via.

QUESTÃO 22

Celular e direção são uma mistura tão perigosa quanto conduzir um veículo alcoolizado. Isso porque falar ao telefone ou mandar SMS distrai o motorista e pode aumentar em 400% o risco de acidentes.

Essa prática acarretará ao condutor:

- I. Recolhimento da habilitação
- II. Infração gravíssima
- III. Multa
- IV. Remoção do veículo

Marque a alternativa **CORRETA**:

- (A) IV e I.
- (B) II e III.
- (C) III e IV.
- (D) II, III e IV.

QUESTÃO 23

A respeito do cinto de segurança, julgue os item abaixo como (V) Verdadeiro ou (F) Falso e, em seguida, marque a alternativa que apresenta a sequência **CORRETA**.

- () Constitui infração de trânsito o não uso do cinto de segurança pelo condutor do veículo, apenas.
- () Conforme dispõe o Código de Trânsito Brasileiro o cinto de segurança é obrigatório em veículos com motores, exceto motos.
- () O cinto de segurança serve para, em caso de colisão, não permitir a projeção do ocupante do veículo para fora do veículo e nem que este bata com a cabeça contra o para-brisas ou outras partes duras do veículo.

- (A) F, V, V.
- (B) V, V, V.
- (C) V, F, V.
- (D) F, F, V.

QUESTÃO 24

A sinalização de advertência serve para alertar aos motoristas sobre perigos e condições da via. Analise as sinalizações abaixo, e marque a alternativa que corresponde a sequência **CORRETA** do significado das placas.



- (A) I – sentido da rotatória; II – curva à esquerda; III – curva acentuada à direita.
(B) I – pista sinuosa à direita; II – vire à direita; III – vire à esquerda.
(C) I – círculo obrigatório; II – curva em “s” à esquerda; III – curva simples à esquerda.
(D) I – interseção em círculo; II – curva acentuada à esquerda; III – pista sinuosa à esquerda.

QUESTÃO 25

Todo condutor tem o dever de preservar a vida no trânsito, aplicando a direção defensiva que é dirigir utilizando e respeitando a legislação, o conhecimento e atitudes corretas. Quando o condutor, mesmo conhecendo as leis e regras de trânsito, deixa de respeitá-las, expondo a si próprio e as demais pessoas, está tendo uma atitude dê? Marque a opção **CORRETA**.

- (A) Imperícia.
(B) Negligência.
(C) Imprudência.
(D) Ato seguro.

QUESTÃO 26

Em relação aos equipamentos obrigatórios de veículo de quatro ou mais rodas e ônibus elétrico, assinale os itens abaixo como (V) Verdadeiro e (F) Falso e, em seguida, marque a alternativa que apresenta a sequência **CORRETA**.

- Encosto de cabeça em todos os assentos dos automóveis, exceto nos assentos centrais (onde é facultativo).
 Dispositivo independente de sinalização luminosa de emergência (pisca-alerta).
 Equipamento registrador instantâneo inalterável (Tacógrafo) para veículos de transporte de passageiros com mais de 10 lugares e de carga com capacidade acima de 19 toneladas.

- (A) V, V, V.
(B) V, V, F.
(C) F, F, V.
(D) F, F, F.

QUESTÃO 27

Analise a afirmativa a seguir e marque a alternativa que preenche **CORRETAMENTE** as lacunas.

O sistema de _____ é responsável por controlar a temperatura do motor por intermédio da circulação de ar ou água. O _____ gera calor que precisa ser espalhado, evitando o superaquecimento.

- (A) Motor; Alimentação.
(B) Lubrificação; Alimentação.
(C) Direção, Motor.
(D) Arrefecimento; Motor.

QUESTÃO 28

O condutor que tiver o propósito de sair pelo lado esquerdo da via, deve aproximar-se o máximo possível da linha divisória da pista. Essa manobra é chamada de? Marque a opção **CORRETA**.

- (A) Conversão à esquerda aguardando no acostamento a direita da via.
- (B) Conversão à esquerda em mão única.
- (C) Conversão à esquerda em via de mão dupla.
- (D) Conversão à direita.

QUESTÃO 29

O condutor que dirige atento, respeitando as leis de trânsito e agindo no tempo correto, está evitando? Marque a opção **CORRETA**.

- (A) Atropelamento apenas.
- (B) Acidente de trânsito.
- (C) Ultrapassagem perigosa.
- (D) Fiscalização dos órgãos competentes.

QUESTÃO 30

A sinalização vertical de regulamentação abaixo tem como função informar que deverá parar o veículo antes de entrar ou cruzar a via ou pista. Seu formato permite identificá-la, mesmo estando virada. A placa de regulamentação a seguir “Parada obrigatória” tem qual formato? Marque a opção **CORRETA**.



- (A) Hexagonal.
- (B) Quadriculada.
- (C) Triangular.
- (D) Octogonal.

ANOTE AQUI AS SUAS RESPOSTAS PARA POSTERIOR CONFERÊNCIA.

Questão	Resposta	Questão	Resposta	Questão	Resposta
Nº 01		Nº 11		Nº 21	
Nº 02		Nº 12		Nº 22	
Nº 03		Nº 13		Nº 23	
Nº 04		Nº 14		Nº 24	
Nº 05		Nº 15		Nº 25	
Nº 06		Nº 16		Nº 26	
Nº 07		Nº 17		Nº 27	
Nº 08		Nº 18		Nº 28	
Nº 09		Nº 19		Nº 29	
Nº 10		Nº 20		Nº 30	

Este Caderno de Prova será divulgado dia 02 de maio de 2018, no site da FGR www.fgrconcursos.org.br, bem como no site da Prefeitura Municipal de Cabeceira Grande www.pmcg.mg.gov.br.

O Gabarito será divulgado dia 02 de maio de 2018, no Diário Oficial do Estado, no site da FGR www.fgrconcursos.org.br e no site da Prefeitura Municipal de Cabeceira Grande www.pmcg.mg.gov.br.



DECLARAÇÃO

Declaro, para os devidos fins, que o (a) candidato (a) _____, compareceu nesta data, no período de 09h00min às 12h00min horas, para realização das Provas Objetivas do Concurso Público da Prefeitura Municipal de Cabeceira Grande.

Cabeceira Grande, 29 de abril de 2018.

Pedro Seixas da Silva
Superintendente-Geral.