

CONCURSO PÚBLICO DA PREFEITURA DE CABECEIRA GRANDE – MG

Nível Fundamental

Cargo
Auxiliar Administrativo

LEIA COM ATENÇÃO!

- 01.** Só abra este caderno após ler todas as instruções e quando for autorizado pelos fiscais da sala.
- 02.** Autorizado o início da prova, verifique se o caderno contém 30 (trinta) questões. Se não estiver completo, comunique ao fiscal.
- 03.** Todas as questões são de múltipla escolha, apresentando 4 (quatro) opções de resposta e uma única alternativa correta.
- 04.** Ao receber a folha de respostas, confira o seu nome e número de inscrição. Qualquer irregularidade observada comunique imediatamente ao fiscal.
- 05.** O tempo de prova será de 3 (três) horas. Este tempo compreende a assinatura e a transcrição para a Folha de Respostas.
- 06.** A última folha deste caderno é destacável e o candidato pode levá-la como anotação das respostas. Assinale as respostas primeiramente no corpo da prova, só depois transfira os resultados para a folha de respostas.
- 07.** O preenchimento da folha de respostas deve ser feito apenas com caneta esferográfica preta ou azul. Faça as marcas apenas no campo designado. A marcação da folha de respostas é definitiva, não admitindo rasuras.
- 08.** A folha de resposta não será substituída (item 8.18.3 do edital), portanto não risque, amasse, dobre ou suje sua folha de respostas, pois isso poderá prejudicá-lo.
- 09.** Os fiscais não estão autorizados a emitir opinião nem prestar esclarecimentos sobre o conteúdo das provas. A interpretação das questões faz parte da avaliação (prova).



LÍNGUA PORTUGUESA

QUESTÃO 01

Leia o texto a seguir.

Professora de Itanhaém aproveita tempo livre para se dedicar ao surf

Para alguns o mar está para peixes, para outros está para ondas. Faça chuva ou faça sol, a professora Rita Rodrigues de Oliveira, de 55 anos, tem no sangue a determinação de uma surfista veterana e não se dá por vencida nas águas. Com sua prancha, renova as energias: "Sinto-me na flor da idade", afirma.

(Disponível em: <<https://blog.seraquetem.com.br/cidades/outras-cidades/itanhaem/na-flor-da-idade-professora-de-itanhaem-aproveita-tempo-livre-para-se-dedicar-ao-surf/>> Acesso em: 19 abr. 2018. Adaptado)







Na frase "Sinto-me na flor da idade", a expressão "na flor da idade" está empregada no sentido:

- (A) Conotativo, significando "ainda jovem".
- (B) Figurado, significando "no final da vida".
- (C) Próprio, significando "envelhecendo rápido".
- (D) Denotativo, significando "com idade avançada".

QUESTÃO 02

Marque a alternativa abaixo cujo enunciado exemplifica uma frase nominal.

(A)  Sua equipe é excelente!	(B)  BLÁ BLÁ BLÁ Silêncio!	(C)  Estou triste você faltou ontem!	(D)  Você é brilhante!
--------------------------------------------------------------------------------------------------------------------------	---------------------------------------------------------------------------------------------------------------------------	-----------------------------------------------------------------------------------------------------------------------------------	-------------------------------------------------------------------------------------------------------------------

QUESTÃO 03

Preencha corretamente as lacunas quanto à classe gramatical da palavra destacada e a explicação dada para a sua concordância.

"Conhecida como a 'Grande Dama do Samba' e considerada um dos maiores nomes da música popular brasileira em todos os tempos, Dona Ivone Lara, falecida em 16 de abril, nasceu em família de amantes da música popular. Enfrentou o preconceito e passou por momentos **muito** difíceis por ser mulher e sambista. Seu maior sucesso foi "Sonho meu", de autoria do compositor carioca Délcio Carvalho.

(Disponível em <<https://www.cartacapital.com.br/cultura/morre-dona-ivone-lara-a-201cggrande-dama-do-samba201d>>. Acesso em 19 abr. 2018.)

Na frase, a palavra "muito" modifica o _____ "difíceis". Não há concordância entre essas classes gramaticais porque, nesse caso, "muito" é um _____, palavra invariável.

- (A) adjetivo / adjetivo
- (B) advérbio / adjetivo
- (C) advérbio / advérbio
- (D) adjetivo / advérbio

QUESTÃO 04

Admirável gado novo

Vocês que fazem parte dessa massa
Que passa nos projetos do futuro
É duro tanto ter que caminhar
E dar muito mais do que receber

E ter que demonstrar sua coragem
À margem do que possa parecer
E ver que toda essa engrenagem
Já sente a ferrugem lhe comer

Ê, ô, ô, vida de gado
Povo marcado, ê!

Povo feliz!

Ê, ô, ô, vida de gado
Povo marcado, ê!

Povo feliz!

Fonte: Zé Ramalho. *CD 20 anos - Antologia acústica*. Acamã Produtora / Geração Produtora, 1997.

Marque a alternativa que preenche corretamente as lacunas do texto quanto à versificação da música acima.

Depois da segunda estrofe há um _____ que reforça a ideia defendida pelo sujeito lírico a respeito do povo que, apesar de "marcado", é feliz. Quanto à metrificação da estrofe, os versos são _____. As rimas são _____, correspondentes ao esquema A-B-C-D-E-D-E-D.

- (A) estribilho – brancos – alternadas
- (B) dístico – livres – emparelhadas
- (C) refrão – decassílabos – mistas
- (D) coro – eneassílabos – interpoladas

QUESTÃO 05

Leia, atentamente, a anedota.

Joãozinho chamou o táxi e perguntou:
-Moço, quanto o senhor cobra para me levar para o aeroporto?
E o taxista respondeu:
-R\$15,00.
-E as malas?
-As malas eu não cobro nada.
-Então leve as malas que eu vou a pé.

Fonte: <https://me.me/i/joaozinho-chamou-o-taxi-e-perguntou-moco-quanto-o-senhor-678985>

Na frase "Então leve as malas que eu vou a pé", podemos substituir "as malas" pelo pronome oblíquo "as". Marque a alternativa que apresenta a forma **CORRETA** desta substituição.

- (A) levem-nas.
- (B) leve-as.
- (C) levem-las.
- (D) leve-nas.

QUESTÃO 06

Marque a alternativa **CORRETA** em que o "a" deveria conter acento grave, devido à ocorrência de crase.

- (A) A tabacaria situava-se a duas quadras do esplendoroso Museu do Louvre.
- (B) O aplauso foi dirigido a mulheres defensoras do empoderamento feminino.
- (C) Gota a gota, minha paciência foi sendo minada com aquela discussão tola.
- (D) A advogada, naquele momento, tomou sábias decisões a Nelson Mandela.

QUESTÃO 07

Desde muito tempo, o aumento das taxas de impostos sobre produtos industrializados afetaram profundamente a renda mensal dos brasileiros.

Sobre a declaração acima, avalie as afirmações acerca dos termos da oração.

- I. "O aumento das taxas de impostos sobre produtos industrializados" é o núcleo do sujeito da oração.
- II. A concordância do verbo com o sujeito não está de acordo com a norma culta, pois o verbo deveria ser empregado no singular.
- III. O predicado da oração é verbal, porque seu núcleo é um verbo nocional, ou seja, demonstra uma ação.
- IV. "A renda mensal" é o objeto direto e "dos brasileiros" é o objeto indireto, pois o verbo "afetaram" é bitransitivo.

Está **CORRETO** apenas o que se afirma em:

- (A) I e IV.
- (B) I e II.
- (C) II e III.
- (D) III e IV.

QUESTÃO 08



Fonte: <https://www.frasesparaface.com.br/nao-me-deixe-ir-posso-nunca-mais-voltar/>. Acesso em 01 nov. 2017

De acordo com a norma padrão da língua, o pronome oblíquo átono "me"

- (A) Tem de ficar obrigatoriamente antes do verbo.
- (B) Apresenta desvio em relação à posição na frase.
- (C) Pode estar enclítico que não haverá problema.
- (D) Admite outra colocação no respectivo verso.

QUESTÃO 09

"O Papa Francisco demonstra a todo tempo seu amor aos mais pobres."

Analise a frase acima e marque a opção cujo trecho grifado exerce a mesma função sintática.

- (A) Nos dias atuais os cristãos estão perto da verdade.
- (B) A voz segura do sacerdote ecoou nas alturas.
- (C) Os soldados da Líbia foram recebidos pelo padre.
- (D) A fé conduz toda e qualquer pessoa à esperança.

QUESTÃO 10

Leia, atentamente, o texto a seguir.

Lobo-Guará

O lobo-guará, a maior espécie de canídeo das Américas, é um mamífero que está ameaçado em extinção. Diferentemente de outras espécies que vivem em matilha, esse lobo é um animal de hábitos solitários, sendo encontrado no bioma do Cerrado. A proximidade do **seu** habitat com regiões ocupadas gera conflitos de convivência da espécie com o homem. É muito difundida a ideia de ser mau e de atacar os animais domésticos e as pessoas, mas ele não é agressivo.

(Disponível em: < <https://www.todamateria.com.br/lobo-guara/>>. Acesso em: 18 abr. 2018. Adaptado)

No texto, o pronome "seu", em destaque, está substituindo o substantivo:

- (A) Bioma.
- (B) Homem.
- (C) Lobo.
- (D) Cerrado.

QUESTÃO 11

Avalie as afirmações sobre o texto a seguir.



Momentos

Era meia noite, nuvens escuras no céu, momentos sombrios. Um barulho que me incomodou, um gemido inquietante no quarto, aproximado. Ela partiu.

Gabriel Leal Bergamasco 3ª série B/EM

Fonte: <https://pt.slideshare.net/lutonete/minicontos>. Acesso em 01 nov. 2017

- I. Quanto ao gênero textual, trata-se de um miniconto.
- II. Pela economia de palavras, não há uma história sendo contada.
- III. A concisão indica incapacidade criativa do autor.
- IV. O estilo não compromete a qualidade da narrativa.

Está **CORRETO** apenas o que se afirma em:

- (A) I e III.
- (B) II e IV.
- (C) I e IV.
- (D) II e III.

QUESTÃO 12

"Embora frequentes no dia a dia dos falantes, os **vícios de linguagem** são desvios gramaticais, ou seja, palavras, expressões e construções que fogem às regras da norma padrão ou norma culta. Os vícios de linguagem ocorrem, normalmente, por falta de atenção e pouco conhecimento dos significados das palavras pelos falantes".

Considerando as informações presentes no texto acima, em qual dos pares de frases identificam-se vícios de linguagem?

- (A) O anfitrião *comprimentou* meus amigos. / Certos voos provocam enjoos.
- (B) Fazem dois meses que ele partiu. / Faltaram muitos convidados hoje.
- (C) Eu o vi na esquina da minha rua. / A vaca da sua irmã é muito brava.
- (D) Houveram dias de paz no país. / Quando eu pôr o jornal na mesa, saia.

QUESTÃO 13

Sabendo-se que a divisão silábica obedece a algumas regras básicas é possível afirmar que todas as palavras tiveram suas sílabas separadas **CORRETAMENTE** em:

- (A) des-mai-a-do / gnós-ti-co / joi-a.
- (B) as-sas-si-no / ca-u-le / U-ru-guai.
- (C) ca-rro-ça / gno-mo / ca-dea-do.
- (D) ad-mi-rar / caa-tinga-ga / gu-el-ra.

QUESTÃO 14

Leia, com atenção, a frase.

***Os professores são heróis
anônimos, meu amigo.***

A frase traz na sua construção uma figura de linguagem que consiste no emprego de uma palavra com sentido que não lhe é comum ou próprio, sendo esse novo sentido resultante de uma relação de semelhança, de similaridade, de intersecção entre dois termos.

É **CORRETO** afirmar que essa figura é denominada:

- (A) Metonímia.
- (B) Metáfora.
- (C) Anáfora.
- (D) Ironia.

QUESTÃO 15

Leia, com atenção, um fragmento da letra de música a seguir.

Boa Sorte / Good Luck (feat. Ben harper)

"É só isso
Não tem mais jeito
Acabou, boa sorte
Não tenho o que dizer
São só palavras
E o que eu sinto
Não mudará.

Fonte: <https://www.letras.mus.br/vanessa-da-mata/978899/>> Acesso em 05 nov. 2017

A respeito da coerência e da coesão, é **CORRETO** afirmar que o texto é:

- (A) coeso, mas incoerente devido às ideias desarticuladas.
- (B) coeso, embora as palavras não alcancem o sentido pretendido.
- (C) coerente, mesmo sem apresentar elementos de coesão.
- (D) incoerente, porque não apresenta articuladores de coesão.

MATEMÁTICA

QUESTÃO 16

Um número natural é *primo* se possuir apenas dois divisores, a saber, o número 1 e ele mesmo. Caso contrário, é chamado de número *composto*.

Analise as seguintes afirmações:

- I. O número 12 é composto.
- II. Existem apenas 4 números primos maiores que 1 e menores que 10.
- III. O número 41 é primo.

Marque a alternativa **CORRETA**:

- (A) Somente as afirmações I e III são verdadeiras.
- (B) Todas as afirmações acima são verdadeiras.
- (C) Somente a afirmação III é falsa.
- (D) Todas as afirmações são falsas.

QUESTÃO 17

Marta possui R\$ 96,00 em moedas de R\$ 0,05, R\$ 0,25 e R\$ 0,50. A quantidade de cada tipo de moeda é a mesma.

Marque a alternativa que contém a quantidade de cada tipo de moeda.

- (A) 120.
- (B) 130.
- (C) 110.
- (D) 80.

QUESTÃO 18

Segunda-feira gastei R\$ 51,25, terça-feira gastei R\$ 11,62, quarta-feira gastei R\$ 24,11, quinta-feira gastei R\$ 12,73 e sexta-feira gastei R\$ 78,47.

Qual o valor total que gastei de segunda-feira até sexta-feira?

- (A) R\$ 165,78.
- (B) R\$ 178,18.
- (C) R\$ 182,23.
- (D) R\$ 191,42.

QUESTÃO 19

Os honorários de um profissional autônomo foram aumentados em 25% após o término de um curso de capacitação que realizou.

Considerando que este profissional recebeu R\$ 2.625,00, por um determinado serviço prestado, qual é o valor que ele receberia antes do reajuste?

- (A) R\$ 1.968,75.
- (B) R\$ 2.000,00.
- (C) R\$ 2.100,00.
- (D) R\$ 1.995,15.

QUESTÃO 20

Considere a equação $-2x^2 - 4x + 16 = 0$ e sejam a e b duas soluções para essa equação, com a menor do que b .

Marque a alternativa **CORRETA**:

- (A) $a = 0$ e $b = 1$.
- (B) $a = -1$ e $b = 1$.
- (C) $a = 4$ e $b = 0$.
- (D) $a = -4$ e $b = 2$.

QUESTÃO 21

Um prêmio de 40 quilos de ouro foi dividido igualmente entre 32 ganhadores.

Considerando que a grama do ouro vale R\$ 133,43, marque a alternativa que contém o valor do ouro, em reais, de cada ganhador.

- (A) R\$ 16.678,75.
- (B) R\$ 1.667,88.
- (C) R\$ 1.667.875,00.
- (D) R\$ 166.787,50.

QUESTÃO 22

Quantos segundos tem 3 horas 32 minutos e 15 segundos?

- (A) 1.935 segundos.
- (B) 2.115 segundos.
- (C) 12.735 segundos.
- (D) 33.215 segundos.

QUESTÃO 23

Dentre todos os selos de um colecionador, 378 deles são importados, quantidade correspondente a dezoito vinte avos do total.

Marque a alternativa **CORRETA**.

- (A) O colecionador tem 420 selos, 90% são importados.
- (B) O colecionador tem 400 selos, 94,5% são importados.
- (C) O colecionador tem 378 selos, 91% são importados.
- (D) O colecionador tem 428 selos, 88,32% são importados.

QUESTÃO 24

Considere que um ciclista percorre uma pista em forma retangular, com 440 metros de comprimento e 320 metros de largura.

Supondo que o ciclista completará 6 voltas nesta pista, marque a alternativa que contém o total percorrido.

- (A) 4.560 metros.
- (B) 91.200 metros.
- (C) 45.600 metros.
- (D) 9.120 metros.

QUESTÃO 25

Tome a terça parte da idade de João, subtraia a idade de Sofia, o resultado ainda é maior que a idade de Carla.

Supondo que Sofia tem *7 anos* e Carla *15 anos*, marque a alternativa que contém uma possível idade de João.

- (A) *50 anos*.
- (B) *67 anos*.
- (C) *58 anos*.
- (D) *61 anos*.

QUESTÃO 26

Dado o sistema linear abaixo, determine valores para *x* e *y*.

$$\begin{cases} 2x - y = 3 \\ -3x + 2y = 9 \end{cases}$$

Marque a alternativa que contém, respectivamente, os valores de *x* e *y*.

- (A) *15 e 27*.
- (B) *9 e 11*.
- (C) *14 e 21*.
- (D) *3 e 0*.

QUESTÃO 27

Em um dia de trabalho, *4* trabalhadores constroem *16 m²* de muro.



Quantos trabalhadores seriam necessários para construir *52 m²* de muro em um mesmo dia de trabalho?

- (A) *11*
- (B) *12*
- (C) *14*
- (D) *13*

INFORMÁTICA

QUESTÃO 28

É **CORRETO** afirmar sobre a função do *Menu Iniciar* do **WINDOWS**:

- (A) O Menu Iniciar é um ponto de partida somente para programas. Ele está disponível apenas pela tecla do logotipo do WINDOWS  no teclado.
- (B) É botão responsável por ligar o computador e assim iniciá-lo.
- (C) O Menu Iniciar é um ponto de partida para programas, pastas, e configuração do computador, ele também traz o botão para desligar, reiniciar ou bloquear a máquina. Está disponível à esquerda da Barra de Tarefas e pode ser acessado também pela tecla do logotipo do WINDOWS  no teclado.
- (D) O Menu Iniciar está localizado à esquerda da Barra de Tarefas e tem como finalidade apenas desligar, reiniciar ou bloquear a máquina.

QUESTÃO 29

As teclas **<CTRL> + V** e **<CTRL> + C** tem como funções respectivamente no WINDOWS:

- (A) Copiar e colar.
- (B) Recortar e colar.
- (C) Copiar e recortar.
- (D) Colar e Copiar.

QUESTÃO 30

Qual navegador web oficial da Microsoft para o **Windows 7**?

- (A) Internet Explorer.
- (B) Windows Explorer.
- (C) Mozilla Firefox.
- (D) Google Chrome.

ANOTE AQUI AS SUAS RESPOSTAS PARA POSTERIOR CONFERÊNCIA.

Questão	Resposta	Questão	Resposta	Questão	Resposta
Nº 01		Nº 11		Nº 21	
Nº 02		Nº 12		Nº 22	
Nº 03		Nº 13		Nº 23	
Nº 04		Nº 14		Nº 24	
Nº 05		Nº 15		Nº 25	
Nº 06		Nº 16		Nº 26	
Nº 07		Nº 17		Nº 27	
Nº 08		Nº 18		Nº 28	
Nº 09		Nº 19		Nº 29	
Nº 10		Nº 20		Nº 30	

Este Caderno de Prova será divulgado dia 02 de maio de 2018, no site da FGR www.fgrconcursos.org.br, bem como no site da Prefeitura Municipal de Cabeceira Grande www.pmcg.mg.gov.br.

O Gabarito será divulgado dia 02 de maio de 2018, no Diário Oficial do Estado, no site da FGR www.fgrconcursos.org.br e no site da Prefeitura Municipal de Cabeceira Grande www.pmcg.mg.gov.br.



**Fundação
Guimarães Rosa**

DECLARAÇÃO

Declaro, para os devidos fins, que o (a) candidato (a) _____, compareceu nesta data, no período de 09h00min às 12h00min horas, para realização das Provas Objetivas do Concurso Público da Prefeitura Municipal de Cabeceira Grande.

Cabeceira Grande, 29 de abril de 2018.

Pedro Seixas da Silva
Superintendente-Geral